

6


PLAINES, COLLINES ET PLATEAUX.

Date :


NOM-Prénom :

1 - Complète les phrases avec les mots suivants : altitude, étendues presque plates, bosses aux pentes douces.


Les plaines sont des _____
_____, peu
élevées au dessus de la mer. On y trouve
les cultures, les routes, les chemins de
fer et les villes.



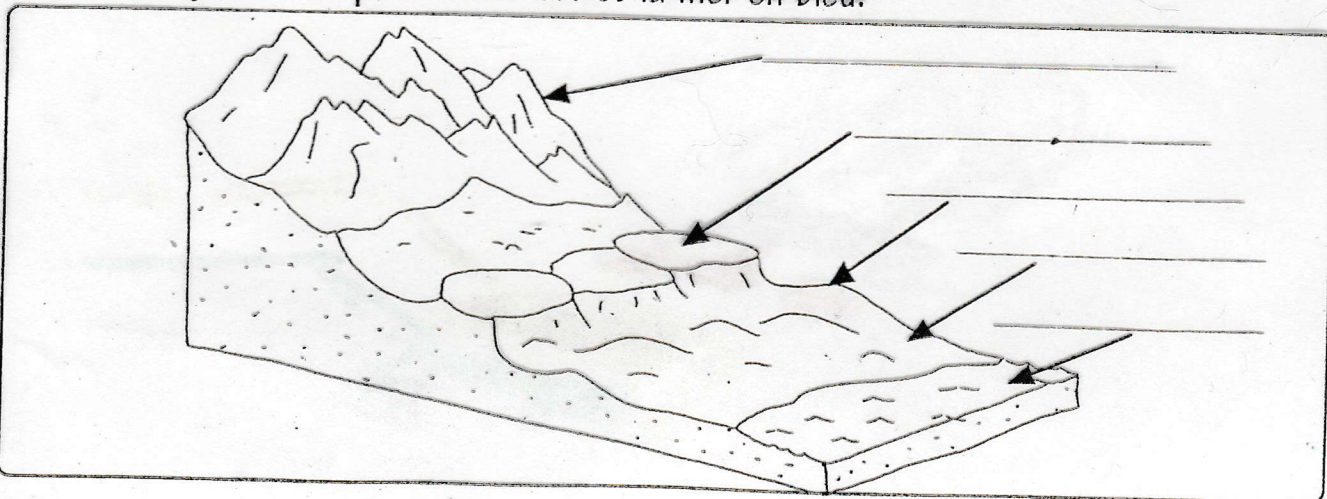
Les collines sont plus élevées. Ce sont des
_____. On y trouve aussi
des cultures. Les routes qui les traversent
sont sinueuses.



Les plateaux sont des plaines que l'on
trouve en _____.
Leur climat y est souvent rude.
Des rivières y creusent des vallées et des
gorges.

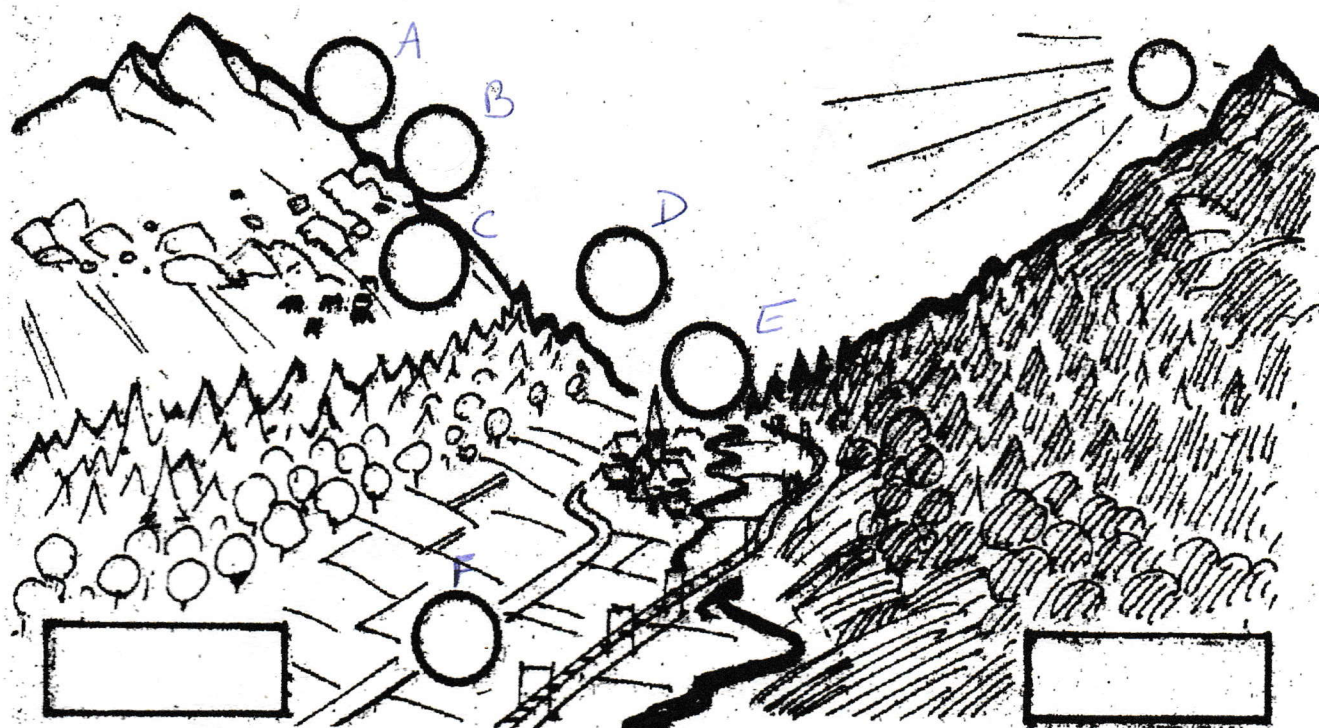


2 - Sur ce dessin, colorie les montagnes en marron, les plateaux en rouge, les collines en jaune, les plaines en vert et la mer en bleu.



Document 2

L'étagement de la végétation



Place les numéros sur la carte :

1-village 2-forêts 3-cultures 4-alpages 5-rochers 6-neiges éternelles.

Colorie : les forêts, les cultures, les rochers, le soleil, le village ...

Remarque: L'espace entre (E) et (F) est une VALLÉE.

Relie.

- | | |
|--|--|
| • Une étendue plate mais en altitude. <input type="checkbox"/> | <input type="checkbox"/> les alpages. |
| • Un espace allongé situé entre 2 zones plus élevées. <input type="checkbox"/> | <input type="checkbox"/> un pic. |
| • Un pâturage de montagne. <input type="checkbox"/> | <input type="checkbox"/> une plaine. |
| • Une étendue plate où coulent les coars d'eau à même le sol au niveau de la mer. <input type="checkbox"/> | <input type="checkbox"/> une vallée. |
| • Une pente d'une montagne. <input type="checkbox"/> | <input type="checkbox"/> un versant. |
| • C'est la hauteur mesurée à partir du niveau de la mer. <input type="checkbox"/> | <input type="checkbox"/> une altitude. |
| • Un sommet élevé et pointu. <input type="checkbox"/> | <input type="checkbox"/> un plateau. |